

## Конкурс «В царстве геометрических фигур»


**№1** Есть ли среди этих шариков квадратный? Какого он цвета?

- А Красный
- Б Жёлтый
- В Синий
- Г Зелёный



**№2** Как называется фигура, которая расположена справа?

- А Круг
- Б Квадрат
- В Овал
- Г Прямоугольник



**№3** На какую фигуру похожа крыша?

- А Квадрат
- Б Треугольник
- В Прямоугольник
- Г Овал



**№4** Отгадай загадку.

Едет ручка вдоль листа  
По линеечке, по краю -

Получается черта,  
Называется ...

- А Прямая
- Б Луч
- В Квадрат

**№5** На какую фигуру похож мячик?

- А Круг
- Б Овал
- В Квадрат
- Г Треугольник

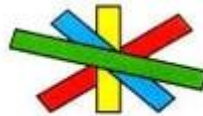


**№6** Геометрическая фигура с тремя сторонами

- А Треугольник
- Б Квадрат
- В Круг
- Г Ромб

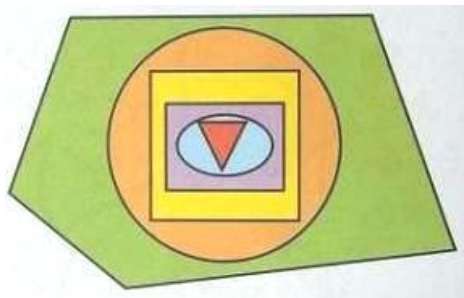
**№7** На рисунке изображены бумажные полоски разного цвета. Полоска какого цвета самая нижняя?

- А Зелёная
- Б Синяя
- В Красная
- Г Жёлтая



**№8** Фигуры разных размеров и цвета наложили друг на друга. Сколько всего фигур на рисунке?

- А 4
- Б 5
- В 6
- Г 7



**№9** Сколько полукругов на этом рисунке?

- А 6
- Б 7
- В 8
- Г 9



**№10** Кошка Мурка с котятами глядят на небо. На небе висит большая жёлтая луна. На какую фигуру похожа луна?

А Квадрат

Б Круг

В Треугольник

